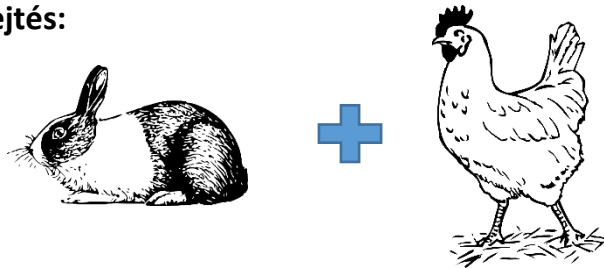
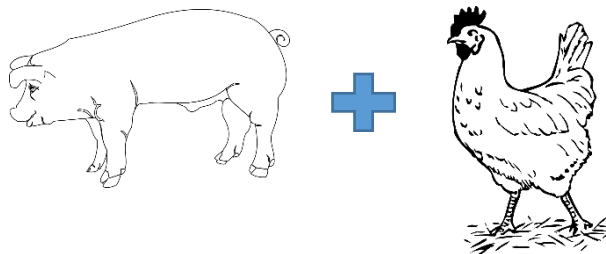



Fejtörő

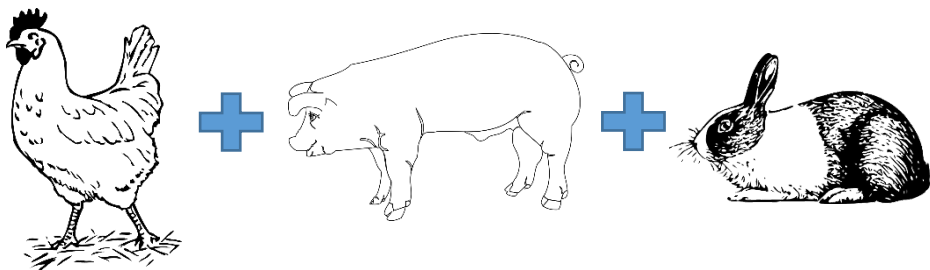
1. Hány kg a tyúk, a malac és a nyuszi összesen az alábbi adatok alapján?

Megfejtés:


$$\text{nyuszi} + \text{tyúk} = 5 \text{ kg}$$


$$\text{malac} + \text{tyúk} = 99 \text{ kg}$$


$$\text{nyuszi} + \text{nyuszi} + \text{nyuszi} = 12 \text{ kg}$$


$$\text{tyúk} + \text{malac} + \text{nyuszi} = ???$$

2. Találja meg és írja be a hiányzó számokat!

